

INSTRUCCIONES: el estudiante deberá contestar a las preguntas haciendo la elección que se detalla en cada una de ellas. Como criterio general de corrección para el conjunto de la prueba se valorará la presentación, la ortografía y la redacción.

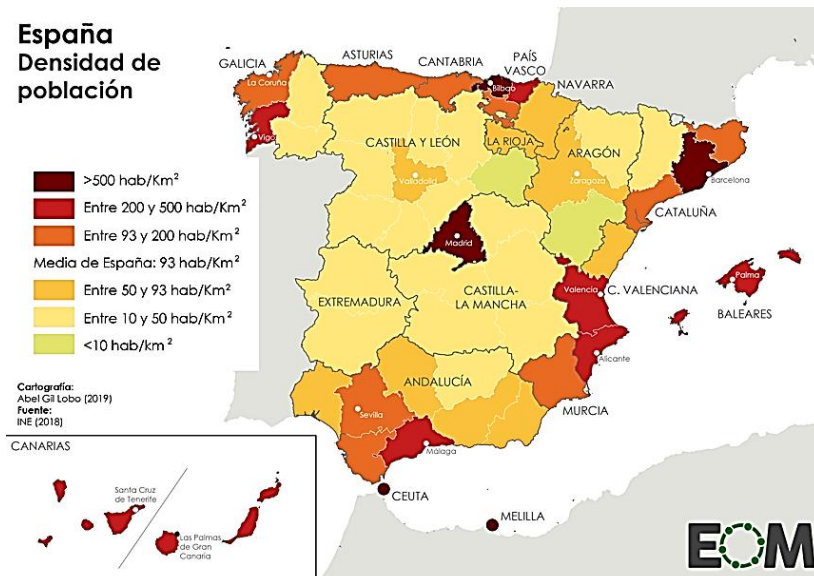
I.- EJERCICIO PRÁCTICO. Elegir **UNO** de entre los siguientes tres ejercicios. Puntuación máxima: **2.5** puntos.



I.A.- Analizar el paisaje que aparece en la fotografía:

- 1.- Describir y analizar los elementos naturales del paisaje (relieve, vegetación, clima, aguas, ...).
- 2.- Describir y analizar los elementos humanos del paisaje (hábitat, economía...) y su interrelación con los anteriores.
- 3.- Explicar de forma razonada en qué regiones españolas podría localizarse este tipo de paisaje.

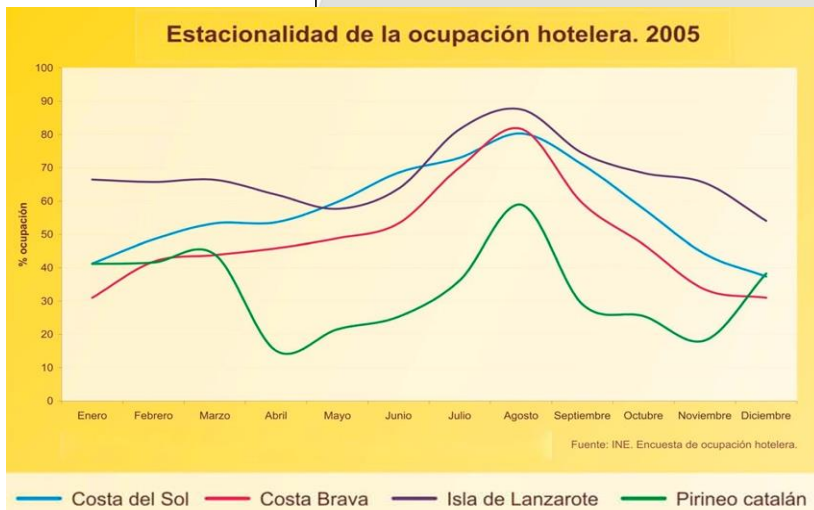
España
Densidad de
población



I.B.- Comentar el mapa que aparece a la izquierda respondiendo a las siguientes preguntas.

- 1.- Describir el fenómeno que se cartografía y su distribución en el territorio.
- 2.- Explicar las causas de esa distribución.
- 3.- Explicar las consecuencias que tiene sobre el territorio las medidas que pueden tomarse para paliar el desequilibrio.

Estacionalidad de la ocupación hotelera. 2005



I.C.- Comentar el gráfico de acuerdo al siguiente guion:

- 1.- Describir el fenómeno que se representa.
- 2.- Enunciar los factores que contribuyen a la distribución que se muestra.
- 3.- Explicar la importancia de este fenómeno en el sector turístico, la evolución a lo largo del tiempo y las perspectivas de futuro que tiene.

Materia: GEOGRAFÍA

II.- EJERCICIO TEÓRICO. Puntuación máxima: 3 puntos (1,5 para cada pregunta). Responder a **DOS** de las siguientes preguntas:

- II.A.- Historia geológica de España.
- II.B.- Unidades del relieve: los relieves exteriores a la Meseta.
- II.C.- Los problemas medioambientales de España y Castilla-La Mancha.
- II.D.- La actividad pesquera. Factores físicos y humanos.

III.- CONCEPTOS. Puntuación máxima: 2 puntos (0,5 para cada pregunta) Responder a **CUATRO** de los siguientes conceptos:

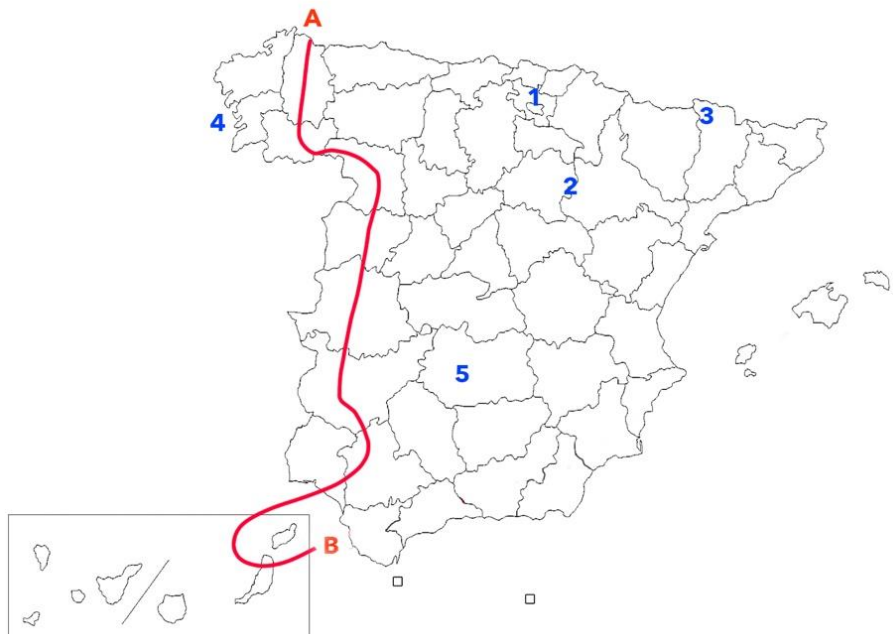
- Clima
- Solsticio
- Maquia
- Perfil edáfico
- PAC
- Desarrollo sostenible
- Estado del Bienestar
- Éxodo rural

IV.- LOCALIZACIÓN. Puntuación máxima: 2.5 puntos. Elegir **UNO** de los siguientes mapas.

Citar las unidades del relieve, ríos y provincias que atraviesa la línea desde A hasta B y localizar los topónimos en los lugares numerados del 1 al 5.

IV.A.- Citar las unidades del relieve, ríos y provincias que atraviesa la línea desde A hasta B y localizar los topónimos en los lugares numerados del 1 al 5

1.- Capital autonómica:
2.- Pico:
3.- Parque Nacional:
4.- Accidente costero:
5.- Humedal:



IV.B.- Citar las unidades del relieve, ríos y provincias que atraviesa la línea desde A hasta B y localizar los topónimos en los lugares numerados del 1 al 5

1.- Parque Nacional:
2.- Isla:
3.- Pico:
4.- Accidente litoral:
5.- Lago/Humedal/Embalse:

